

## **Школьный этап ВсОШ по Географии (Калининградская область)**

### **5-6 класс**

8:00-22:00 16 окт. 2025 г.

#### **Блок с выбором ответов**

##### **№ 1 (1 балл)**

**В честь какого исследователя назван пролив между Азией и Америкой?**

- А) С. Дежнева
- Б) В. Беринга**
- В) А. Чирикова
- Г) Е. Хабарова

##### **№ 2 (1 балл)**

**Если в 1 литре морской воды содержится 12 грамм различных веществ, чему будет равна её соленость?**

- А) 0,12 ‰
- Б) 1,2 ‰
- В) 12 ‰**
- Г) 120 ‰

##### **№ 3 (1 балл)**

**Какое созвездие помогает определить на небе Полярную звезду?**

- А) Кассиопея
- Б) Большая Медведица**
- В) Близнецы
- Г) Андромеда

##### **№ 4 (1 балл)**

**Что такое экватор?**

- А) это самая длинная параллель**
- Б) это самая короткая параллель
- В) это начальный меридиан
- Г) это самый длинный меридиан

##### **№ 5 (1 балл)**

**Наиболее удаленным от Гринвичского меридиана является объект, расположенный на долготе:**

- А) 105<sup>0</sup> в.д.
- Б) 14<sup>0</sup> в.д.
- В) 95<sup>0</sup> з.д.
- Г) 110<sup>0</sup> з.д.**

**№ 6 (1 балл)**

**Географическая широта городов: Минск 53° 53' с. ш., Париж 48° 51' с. ш., Рим 41° 53' с. ш., Пекин 39° 54' с. ш. Какой из этих городов находится ближе всего к Южному Полюсу?**

- А) Минск
- Б) Париж
- В) Рим
- Г) Пекин**

**№ 7 (1 балл)**

**Как называется условная линия, вокруг которой вращается Земля?**

- А) орбитой
- Б) меридианом
- В) земной осью**
- Г) земным радиусом

**№ 8 (1 балл)**

**Назовите реку России, которая течет с запада на восток:**

- А) Енисей
- Б) Амур**
- В) Волга
- Г) Лена

**№ 9 (1 балл)**

**География – это комплексная наука, в её развитие вносят вклад люди различных специальностей. Как называются специалисты, изучающие рельеф земной поверхности:**

- А) Геоэкологи
- Б) Гидрологи
- В) Геоморфологи**
- Г) Гляциологи

**№ 10 (1 балл)**

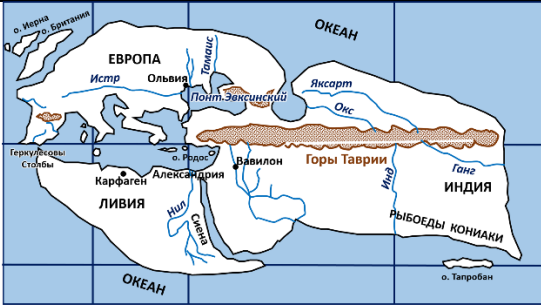


**Сколько рек вытекает из озера Байкал и как они называются?**

- А) одна река – Ангара**
- Б) две реки – Амур и Енисей
- В) две реки – Лена и Обь
- Г) три реки – Печора, Колыма, Индигирка

## Сопоставление









**№1** 6 баллов (за каждый полностью верный ответ 2 балла, если выбрано верно название прибора или показатель измерения – 1 балл)

**Карта – «язык» географии.** Первые графические изображения мира появились еще в древние времена. Сопоставьте представленные карты с их создателями и периодом их создания:

Карта	Создатель	Период составления карты
	Аристотель Эратосфен Киренский Анаксимандр Милетский Клавдий Птолемей Гекатий Милетский Страбон	III в. до н.э. V в. до н.э. VI в. до н.э. V в. н.э. IX в. до н.э.
	Эратосфен Киренский Аристотель Гекатий Милетский Анаксимандр Милетский Клавдий Птолемей	III в. до н.э. V в. до н.э. II в. н.э. IX в. до н.э. V в. н.э.
	Эратосфен Киренский Страбон Клавдий Птолемей Гекатий Милетский Анаксимандр Милетский	III в. до н.э. V в. до н.э. VI в. до н.э. IX в. до н.э. V в. н.э.

**№2** 6 баллов (правильное определение природной зоны – 2 балл)

Определите по изображению представителей флоры и фауны, в какой природной зоне они обитают.

Представители флоры и фауны		Природная зона
		✓ Саванны и редколесье
		✓ Полупустыни и пустыни
		✓ Тайга
		✓ Арктических пустынь

**№3** 8 баллов (за каждый правильно названный объект/город 1 балл (всего 6 баллов), за верное определение направления – 2 балла)



**Туристическая группа отправилась в поход по заповедным местам России. Их путь зашифрован в описании и обозначен на карте России:**

Мы начали своё путешествие по России от самого глубокого пресноводного озера мира (точка А на карте). Сначала мы двигались на запад и достигли города, который построен на болотах и неофициально носит звание «Северной столицы» России (точка Б на карте). Затем мы повернули и поехали на юг, пока не достигли самого южного и древнего города России, стоящего на берегу теплого внутриконтинентального водоема (точка В на карте). Оттуда мы полетели на восток и приземлились в крупнейшем городе азиатской части России, стоящем на берегах великой самой западной сибирской реке (точка Г на карте).



**Ответьте на вопросы:**

1. Назовите все географические объекты и города, о которых идет повествование в тексте и обозначенные на карте точками А, Б, В, Г.

- ✓ А: Озеро Байкал.
- ✓ Б: Санкт-Петербург.
- ✓ В: Дербент (на побережье Каспийского моря-озера)
- ✓ Г: Новосибирск (на реке Обь)

2. В каком направлении нужно было бы лететь из конечной точки Г обратно в начальную точку А?

- юго-восток или ЮВ

**№ 4** 10 баллов (правильное определение лишнего элемента – 1 балл, верное определение принципа объединения трех других – 1 балл)

**Географический детектив: Найдите лишнее звено!**

В каждой из пяти цепочек три элемента объединены одним четким географическим признаком (принципом), а один элемент является лишним. Определите лишний элемент в каждой цепочке и объясните принцип, по которому объединены три других.

<b>Цепочка 1</b> <b>«Горные системы»</b>	<i>Анды – Гималаи – Уральские горы – Атлас</i>
	<b>Лишний элемент:</b> Уральские горы
	<b>Принцип объединения:</b> Молодые складчатые горы, образовавшиеся в альпийскую эпоху горообразования (кайнозойская эра)
<b>Цепочка 2</b> <b>«Моря Мирового океана»</b>	<i>Карибское – Красное – Карское – Каспийское</i>
	<b>Лишний элемент:</b> Каспийское море
	<b>Принцип объединения:</b> Являются морями Мирового океана
<b>Цепочка 3 «Вулканы»</b>	<i>Льюльяйльяко – Килиманджаро–Гекла – Этна</i>
	<b>Лишний элемент:</b> Килиманджаро
	<b>Принцип объединения:</b> действующие вулканы
<b>Цепочка 4</b> <b>«Космические объекты»</b>	<i>Нептун – Сириус – Меркурий – Сатурн</i>
	<b>Лишний элемент:</b> Сириус
	<b>Принцип объединения:</b> планеты Солнечной системы
<b>Цепочка 5</b> <b>«Природные зоны России»</b>	<i>Лишайники – Карликовая береза – Ковыль – Мох</i>
	<b>Лишний элемент:</b> Ковыль
	<b>Принцип объединения:</b> Типичные представители растительности тундры

**№ 5** 8 баллов (за каждый правильный ответ 2 балла)

**Прочитай внимательно текст и рассмотри карту, после ответь на вопросы.**

Калининградская область – это самый западный регион России. Она не граничит с другими регионами нашей страны, а со всех сторон окружена другими государствами и морем. Это море не замерзает зимой. На севере области находится удивительная песчаная часть суши, которую называют «птичьим мостом». Весной и осенью здесь останавливаются на отдых миллионы перелетных птиц! Эта песчаная часть суши отделяет от моря большой пресноводный залив. В Калининградской области есть знаменитые месторождения «солнечного камня», из которого делают красивые поделки и украшения.



**Найдите на карте и напишите названия:**

- Моря, которое омывает Калининградскую область.
- Песчаной части суши, о котором идет речь в тексте.
- Залив, который эта песчаная часть суши отделяет от моря.

- ✓ **Балтийское море**
- ✓ **Куршская коса**
- ✓ **Куршский залив**

**Ответьте на вопрос:**

Как называется «солнечный камень», который добывают в Калининградской области?

- ✓ **Янтарь**